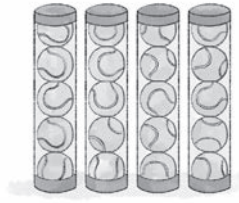


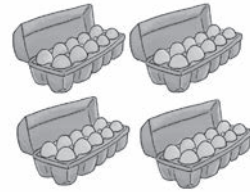
1. Rechne zu jedem Bild die passende Plus- und Malaufgabe.

a)



5	+	5	+	5	+	5	=	20		

b)



10	+	10	+	10	+	10	=	40		


2. Zerlege mit dem Lineal in Kernaufgaben. Rechne.

a)




3	·	6	=	18
2	·	6	=	12
1	·	6	=	6

b)



7	·	8	=	56
5	·	8	=	40
2	·	8	=	16


c)



6	·	9	=	54
5	·	9	=	45
1	·	9	=	9

3. Schreibe Aufgabe und Tauschaufgabe. Rechne die leichtere Aufgabe zuerst.

a)




5	·	7	=	35
7	·	5	=	35

b)



9	·	2	=	18
2	·	9	=	18

c)



8	·	5	=	40
5	·	8	=	40

d)



3	·	10	=	30
10	·	3	=	30

4. Rechne.

a)

.	8	6	4	3
5	40	30	20	15
0	0	0	0	0
10	80	60	40	30
2	16	12	8	6
1	8	6	4	9

b)

.	1	5	10	2	0
7	7	35	70	14	0
6	6	30	60	12	0
8	8	40	80	16	0
4	4	20	40	8	0
9	9	45	90	18	0

5. Finde die Nachbaraufgaben und rechne.

a)

1 · 8 = 8	2 · 7 = 14
2 · 8 = 16	2 · 8 = 16
3 · 8 = 24	2 · 9 = 18

b)

8 · 3 = 24	9 · 2 = 18
9 · 3 = 27	9 · 3 = 27
10 · 3 = 30	9 · 4 = 36

c)

5 · 5 = 25	6 · 4 = 24
6 · 5 = 30	6 · 5 = 30
7 · 5 = 35	6 · 6 = 36

d)

1 · 9 = 9	2 · 8 = 16
2 · 9 = 18	2 · 9 = 18
3 · 9 = 27	2 · 10 = 20

e)

8 · 6 = 48	9 · 5 = 45
9 · 6 = 54	9 · 6 = 54
10 · 6 = 60	9 · 7 = 63

f)

7 · 4 = 28	8 · 3 = 24
8 · 4 = 32	8 · 4 = 32
9 · 4 = 36	8 · 5 = 40

6. Setze fort und rechne.

a)

10 · 3 = 30
9 · 3 = 27
8 · 3 = 24
7 · 3 = 21
6 · 3 = 18
5 · 3 = 15
4 · 3 = 12

b)

5 · 3 = 15
5 · 4 = 20
5 · 5 = 25
5 · 6 = 30
5 · 7 = 35
5 · 8 = 40
5 · 9 = 45

c)

7 · 10 = 70
7 · 9 = 63
7 · 8 = 56
7 · 7 = 49
7 · 6 = 42
7 · 5 = 35
7 · 4 = 28

1. Rechne zu jedem Bild die passende Plus- und Malaufgabe.

a)



3	+	3	+	3	+	3	+	3	+	3	+	3	=	18

b)



5	+	5	+	5	+	5	+	5	=	25


2. Zerlege mit dem Lineal in Kernaufgaben. Rechne.

a)



4	·	7	=	28
2	·	7	=	14
2	·	7	=	14

b)



6	·	7	=	42
5	·	7	=	35
1	·	7	=	7


c)



3	·	8	=	24
2	·	8	=	16
1	·	8	=	8

3. Schreibe Aufgabe und Tauschaufgabe. Rechne die leichtere Aufgabe zuerst.

a)




6	·	5	=	30
5	·	6	=	30

b)



2	·	8	=	16
8	·	2	=	16

c)



7	·	10	=	70
10	·	7	=	70

d)



5	·	6	=	30
6	·	5	=	30

4. Rechne.

a)

·	4	9	6	7
1	4	9	6	7
10	40	90	60	70
5	20	45	30	35
0	0	0	0	0
2	8	18	12	14

b)

·	0	2	5	10	1
4	0	8	20	40	4
8	0	16	40	80	8
9	0	18	45	90	9
3	0	6	15	30	3
6	0	12	30	60	6

5. Finde die Nachbaraufgaben und rechne.

a)

6 · 2 = 12	7 · 1 = 7
7 · 2 = 14	7 · 2 = 14
8 · 2 = 16	7 · 3 = 21

b)

3 · 5 = 15	4 · 4 = 16
4 · 5 = 20	4 · 5 = 20
5 · 5 = 25	4 · 6 = 24

c)

4 · 8 = 32	5 · 7 = 35
5 · 8 = 40	5 · 8 = 40
6 · 8 = 48	5 · 9 = 45

d)

8 · 5 = 40	9 · 4 = 36
9 · 5 = 45	9 · 5 = 45
10 · 5 = 50	9 · 6 = 54

e)

4 · 9 = 36	5 · 8 = 40
5 · 9 = 45	5 · 9 = 45
6 · 9 = 54	5 · 10 = 50

f)

7 · 9 = 63	8 · 8 = 64
8 · 9 = 72	8 · 9 = 72
9 · 9 = 81	8 · 10 = 80

6. Setze fort und rechne.

a)

10 · 4 = 40
9 · 4 = 36
8 · 4 = 32
7 · 4 = 28
6 · 4 = 24
5 · 4 = 20
4 · 4 = 16

b)

5 · 2 = 10
5 · 3 = 15
5 · 4 = 20
5 · 5 = 25
5 · 6 = 30
5 · 7 = 35
5 · 8 = 40

c)

8 · 10 = 80
8 · 9 = 72
8 · 8 = 64
8 · 7 = 56
8 · 6 = 48
8 · 5 = 40
8 · 4 = 32