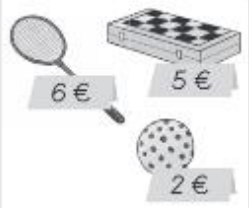



1. Wie viel kostet es? Male und rechne.

 <p>6€ 5€ 2€</p>	 <p>2€ 3€ 9€</p>
Es kostet <input type="text"/> €.	Es kostet <input type="text"/> €.

2. Trage ein.


 8 Uhr
 Uhr


 Uhr
 15 Uhr

Hier erfährst du, wie du die Uhrzeit richtig abliest und Tageszeiten bestimmst.

▶ Ein Tag mit der Uhr

▶ Eine Nacht mit der Uhr

Zu den Geldbeträgen mit Euro und Cent kannst du dir die beiden Lernvideos ansehen.





- ▶ Geld – Cent
- ▶ Geld – Euro

3. Wie viel Euro bleiben übrig? Male und rechne.

Du kaufst:

 <p><input type="text"/> €</p>	 <p>5€ 7€</p> <p><input type="text"/> + <input type="text"/> = <input type="text"/></p>	 <p><input type="text"/> € bleiben übrig.</p>
--	---	---

4. Wie viel Euro bekommst du zurück? Rechne und trage ein.

	 <p>11€</p>		 <p>9€</p>
R: <input type="text"/>	R: <input type="text"/>		
A: Ich bekomme <input type="text"/> zurück.	A: Ich bekomme <input type="text"/> zurück.		

Hier kannst du dir Hilfe holen, wenn du bei einer Aufgabe nicht weiterkommst.

