



Schau dir die beiden Lernvideos noch einmal an. Dort erfährst du, wie du diese Aufgaben lösen kannst.

 Addition mit Analogieaufgaben

 Subtraktion mit Analogieaufgaben

Das Aufgabenformat „Nachbaraufgaben“ bekommst du im Lernvideo noch einmal erklärt.

 Nachbaraufgaben

Zu den Geldbeträgen mit Euro und Cent kannst du dir die beiden Lernvideos ansehen.

 Geld – Cent

 Geld – Euro

1. Rechne die kleine Aufgabe zuerst.

$13 + 2 = \square$      $17 - 3 = \square$      $12 + 4 = \square$      $18 - 7 = \square$   
 $3 + 2 = \square$      $7 - 3 = \square$      $\square + \square = \square$      $\square - \square = \square$

2. Rechne.

+	2	3
2		
12		

+	1	2
5		
15		

-	4	5
9		
19		

-	5	6
7		
17		

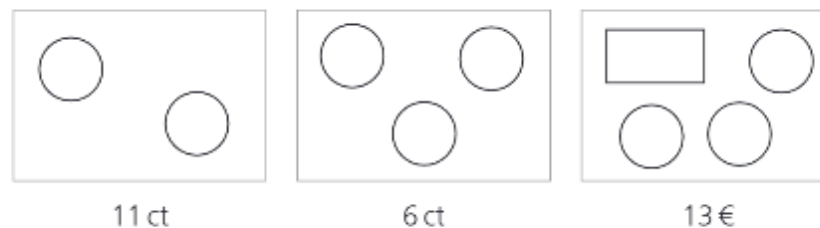
3. Finde die Nachbaraufgaben. Rechne.

$\square + \square = \square$	$\square + \square = \square$	$\square - \square = \square$	$\square - \square = \square$
$12 + 2 = \square$	$12 + 2 = \square$	$16 - 4 = \square$	$16 - 4 = \square$
$\square + \square = \square$	$\square + \square = \square$	$\square - \square = \square$	$\square - \square = \square$

4. Wie viel ist es? Trage ein.



5. Trage ein.



11 ct

6 ct

13 €

Hier erfährst du, wie du Rechentabellen richtig ausfüllst.

 Rechentabellen

Hier kannst du dir Hilfe holen, wenn du bei einer Aufgabe nicht weiterkommst.

