
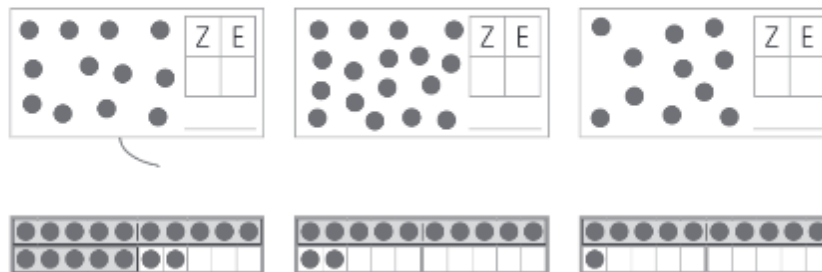


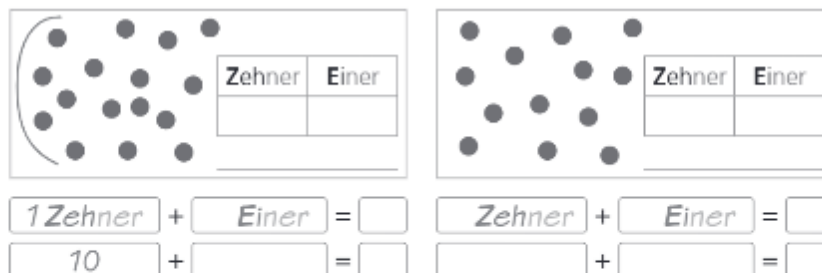
Schaue dir das Lernvideo noch einmal an. Dort erfährst du, wie du diese Aufgaben lösen kannst.

 **Zehner und Einer – Bündeln**

1. Immer 10. Bündele und trage ein. Verbinde.



2. Immer 10. Bündele und trage ein. Rechne.



Im Video bekommst du die Verwendung der Zeichen >, < und = noch einmal erklärt.

 **Gleichungen und Ungleichungen**

3. Setze ein: >, < oder =

$4 \circ 7$ $16 \circ 6$ $8 \circ 6 + 2$
 $19 \circ 19$ $11 \circ 2$ $13 \circ 10 + 5$

4. Trage ein.



5. Setze fort. Zeichne die Pfeile und male an.



Hier kannst du dir Hilfe holen, wenn du bei einer Aufgabe nicht weiterkommst.



Wie du den Zahlenstrahl richtig ausfüllst, erfährst du im Video.

 **Der Zahlenstrahl**

Das Lernvideo zeigt dir, wie du die Zahlenfolgen fortsetzen kannst.

 **Zahlenfolgen**