



In unseren Lernvideos kannst du dir die Zerlegungshäuser noch einmal ansehen.

 Das kleine Zerlegungshaus


 Das große Zerlegungshaus

1. Trage ein.

9	6	10	8
<input type="text"/> + 9	3 + <input type="text"/>	8 + <input type="text"/>	<input type="text"/> + 8
<input type="text"/> + 6	<input type="text"/> + 2	<input type="text"/> + 5	7 + <input type="text"/>
<input type="text"/> + 8	5 + <input type="text"/>	10 + <input type="text"/>	5 + <input type="text"/>
5 + 1 + <input type="text"/>	1 + <input type="text"/> + <input type="text"/>	3 + <input type="text"/> + 1	0 + 2 + <input type="text"/>


2. Trage ein.



	1.	<input type="text"/>	<input type="text"/>	<input type="text"/>	<input type="text"/>
		<input type="text"/>	<input type="text"/>	<input type="text"/>	<input type="text"/>

3. Male an.



	1., 3., 4., 8., 9.
	2., 5., 6., 7., 10.

Im Lernvideo bekommst du die Ordnungszahlen noch einmal erklärt.

 Ordnungszahlen

Wie du die geometrischen Formen unterscheidest, kannst du im Video noch einmal anschauen.

 Die Strichliste

4. Male an. Quadrate , Rechtecke , Dreiecke , Kreise .



5. Setze fort.



Hier kannst du dir Hilfe holen, wenn du bei einer Aufgabe nicht weiterkommst.

